

The 2nd
ステージ



がす^ん あそび^び



な
ま
え

かずあそびの進め方

- 1 1枚ごとに、日付と名前を書きましょう。
- 2 『1日1枚ずつ』など、目標を決めて進めましょう。
- 3 間違えた問題は、やり直しましょう。

おうちの方へ

- ぜひ、お子さんと一緒に楽しく！
このプリントを手にとっていただき誠にありがとうございます。
「考える力」「想像力」「心を育てる」事をこのプリントで養ってください。
おうちの方もご家庭でお子さんとプリントを行い、一緒に楽しく家庭学習に取り組んでください。
- 楽しく数字を学べる！
可愛いイラストで、お子様の興味を引きながら、楽しく数字を学べるようにしています。
お子さんのお好きなように進めてあげてください。
- 足し算、引き算の練習もできます！
イラストで分かりやすく、計算の練習を出来ます。
楽しく、勇気づけながらプリントを進めていただけたら嬉しいです。

もくじ

① おおい(1)	⑱ おなじかず(2)	⑳ たしてみよう(6)
② おおい(2)	⑲ あわせてみよう(1)	㉑ けいさん(1)
③ おおい(3)	⑳ あわせてみよう(2)	㉒ けいさん(2)
④ おおきいすうじ	㉑ あわせてみよう(3)	㉓ わけてみよう(1)
⑤ すくない(1)	㉒ あわせてみよう(4)	㉔ わけてみよう(2)
⑥ すくない(2)	㉓ あわせてみよう(5)	㉕ わけてみよう(3)
⑦ すくない(3)	㉔ あわせてみよう(6)	㉖ わけてみよう(4)
⑧ ちいさいすうじ	㉕ あわせてみよう(7)	㉗ わけてみよう(5)
⑨ 「5」ご	㉖ あわせてみよう(8)	㉘ わけてみよう(6)
⑩ 「6」ろく	㉗ あわせてみよう(9)	㉙ わけてみよう(7)
⑪ 「7」なな・しち	㉘ あわせてみよう(10)	㉚ わけてみよう(8)
⑫ 「8」はち	㉙ あわせてみよう(11)	㉛ わけてみよう(9)
⑬ 「9」きゅう	⑳ たしてみよう(1)	㉜ ひいてみよう(1)
⑭ 「10」じゅう	㉑ たしてみよう(2)	㉝ ひいてみよう(2)
⑮ すうじをかこう(1)	㉒ たしてみよう(3)	㉞ けいさん(4)
⑯ すうじをかこう(2)	㉓ たしてみよう(4)	㉟ けいさん(5)
⑰ おなじかず(1)	㉔ たしてみよう(5)	

1


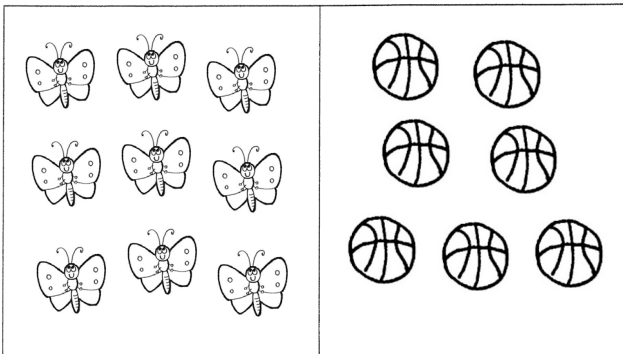
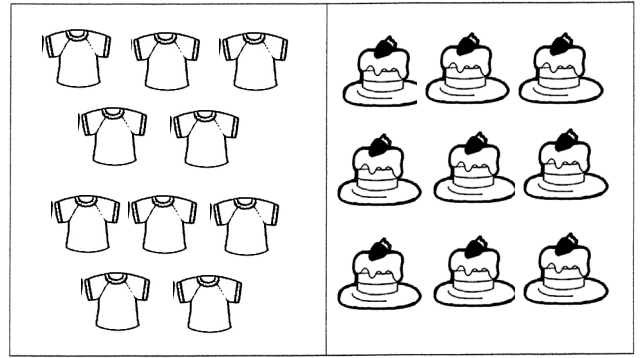


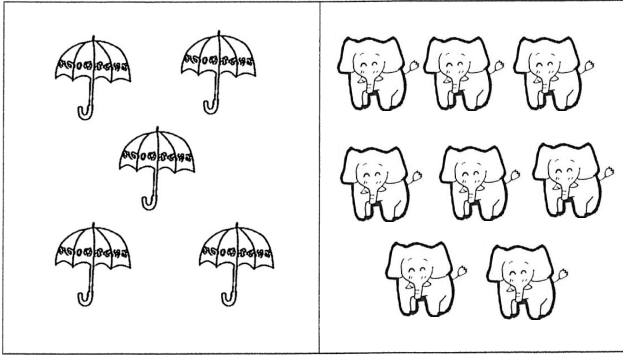
おい(1)

月

日

なまえ

おいほうに ○を つけましょう。



2

おい(2)

月

日

なまえ

おいほうに ○を つけましょう。

3

1

0

1

8

6

5

7

2

4

9

0

3

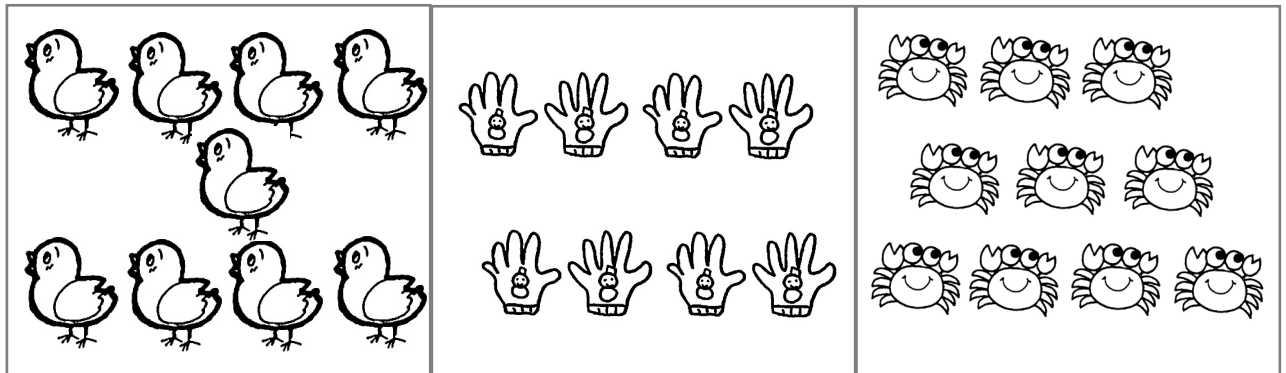


おい(3)

月

日

なまえ

いちばん おおいものに ○をつけましょう。



4

おおきい
すうじ

月

日

なまえ

いちばん おおきい すうじに
○を つけましょう。

3

8

0

7

2

5

6

1

9







5

すくない(1)

月 日

なまえ

すくないほうに ○を つけましょう。



6

すくない(2)

月

日

なまえ

すくないほうに ○を つけましょう。

3

1

0

1

6

5

9

4

2

8

6




7

7

すくない(3)

月 日 なまえ

いちばん すくないものに ○を
つけましょう。



8

ちいさい
すうじ

月

日

なまえ

いちばん ちいさい すうじに
○を つけましょう。

5

7

8

3

0

5

6

8

10

9

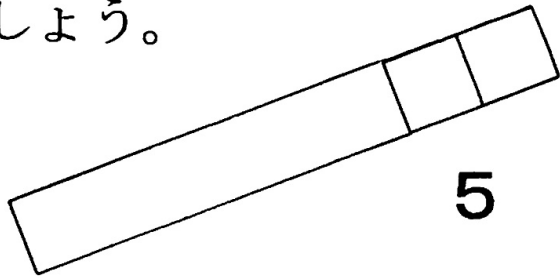
「5」ご

月


日

なまえ

1 5に○をつけましょう。



7



6



2 かいてみましょう。

1

1

1

1

1


--	--	--	--	--

1 6に○をつけましょう。



5



7



6



2 かいてみましょう。

2	2	2	2	2
----------	---	---	---	---

--	--	--	--	--

11

「7」
なな・しち

月


日

なまえ

1 7に○をつけましょう。

Blank box for writing the number 7.

6



Blank box for writing the number 6.



7

8



Blank box for writing the number 8.

2 かいてみましょう。

3	3	3	3	3
----------	---	---	---	---

--	--	--	--	--

12

「8」
はち

月 日

なまえ

1 8に○をつけましょう。

--	--	--

6



8

7



--



--	--	--	--

2 かいてみましょう。

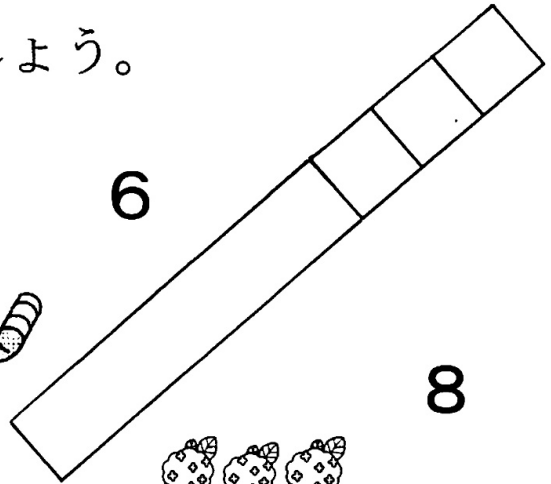
4	4	4	4	4
---	---	---	---	---

--	--	--	--	--

1 9に○をつけましょう。



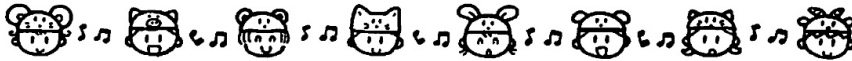

6



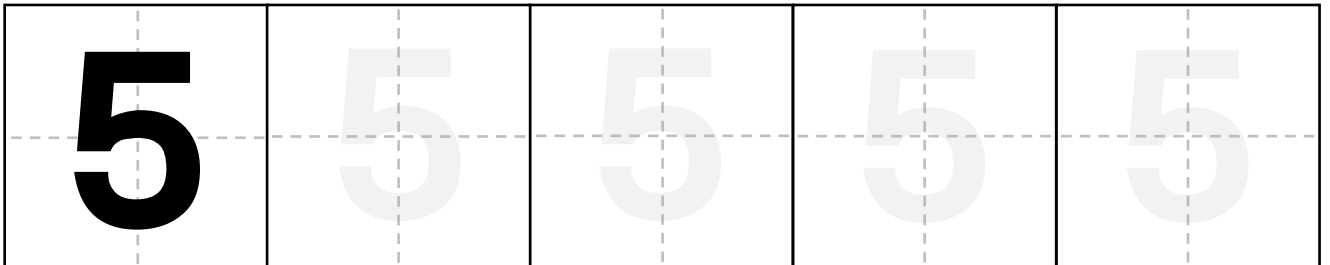
8



9



2 かいてみましょう。



14

「10」
じゅう

月 日 なまえ

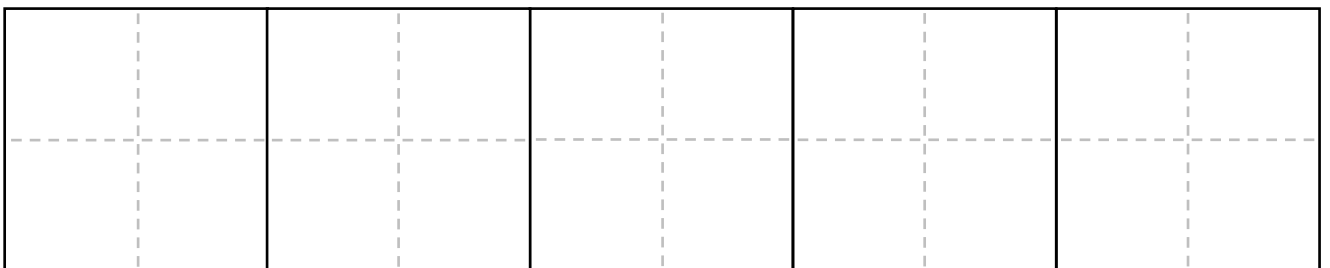
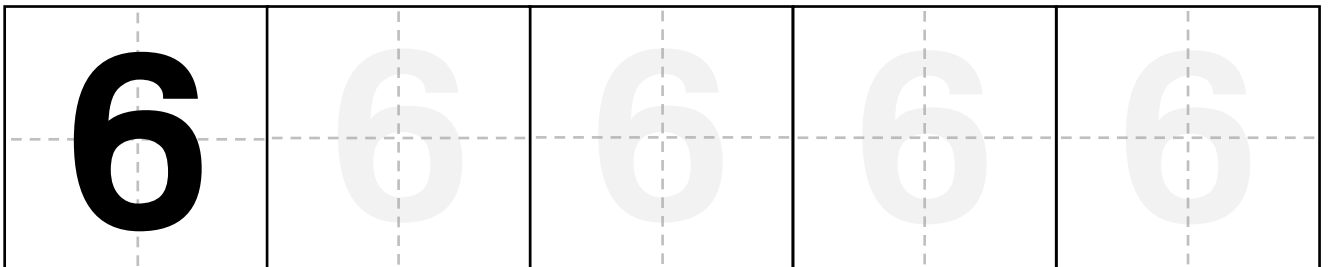
1 10 に○をつけましょう。



8



2 かいてみましょう。



15

すうじを
かこう(1)

月 日 なまえ

1 あいている ところに すうじを かきましょう。

1		3		5
---	--	---	--	---

6		8		10
---	--	---	--	----

2 かいてみましょう。

7	7	7	7	7
---	---	---	---	---

--	--	--	--	--

16

すうじを
かこう(2)

月 日 なまえ

1 あいている ところに すうじを かきましょう。

1	2			5
---	---	--	--	---


	7		9	
--	---	--	---	--

2 かいてみましょう。

8	8	8	8	8
---	---	---	---	---

--	--	--	--	--


1 おなじ かずの ものを せんで つなぎましょう。



•

•


1



•

•

3



•

•

2

2 かいてみましょう。

9

9


9

9

9

--	--	--	--	--


1 おなじ かずの ものを せんで つなぎましょう。



•

•

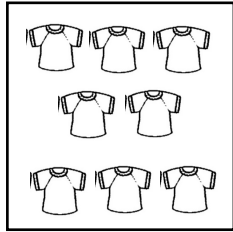
9



•

•

8



•

•

6

2 かいてみましょう。

10	10	10	10	10
----	----	----	----	----

--	--	--	--	--

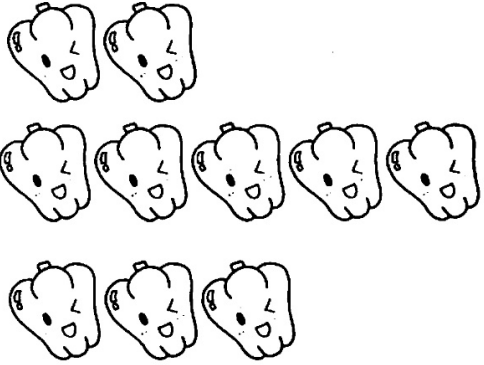
あわせると いくつに なりますか。



と



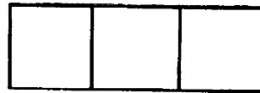
で



と

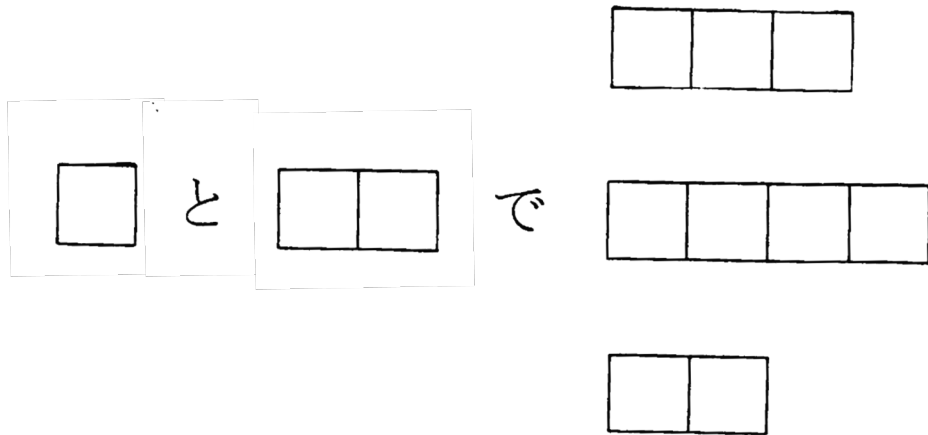



で



1 + 1 = 1, 2, 3

あわせると いくつに なりますか。



1

+

2

=


2,

3,

4,

5

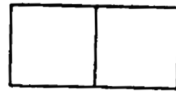
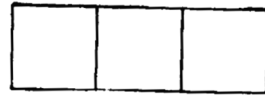

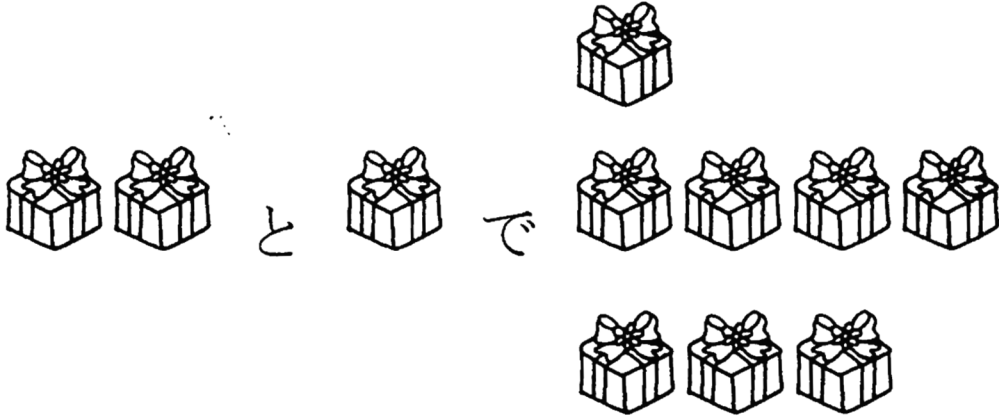
あわせると いくつに なりますか。



	+		=	
	+		=	
	+		=	

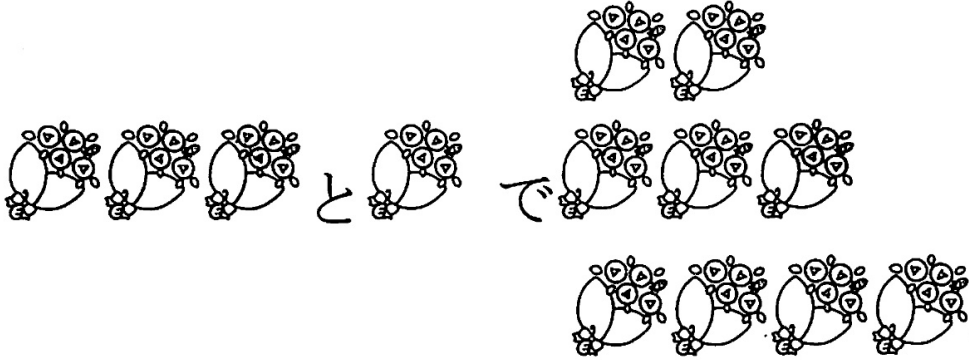
1 + 3 = 2, 3, 4, 5

あわせると いくつに なりますか。



2 + 1 = 2, 3, 4, 5

あわせると いくつに なりますか。



--	--	--	--

--	--	--

と

--


で

--	--	--	--	--

--	--	--

3 + 1 = 2, 3, 4, 5

あわせると いくつに なりますか。



--	--

と

--	--

で

--	--	--

--	--	--	--

--	--	--	--	--

2 +

2


=

3,

4,

5

あわせると いくつに なりますか。

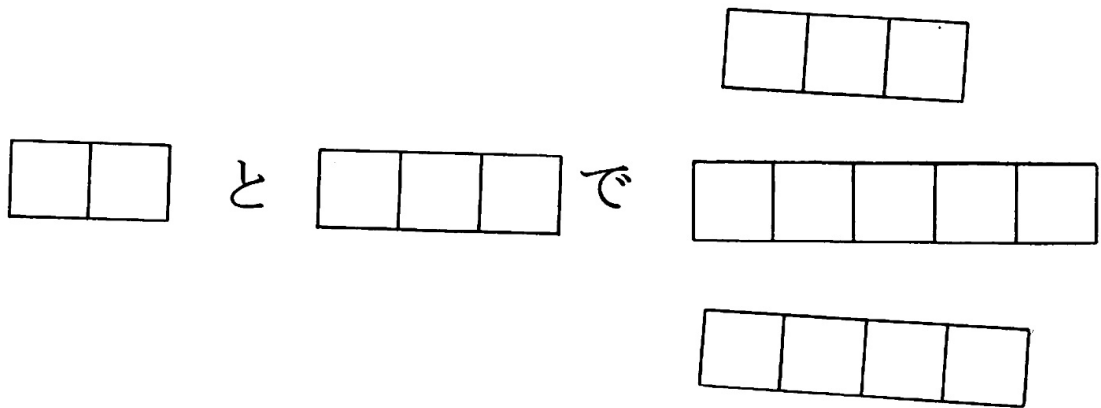
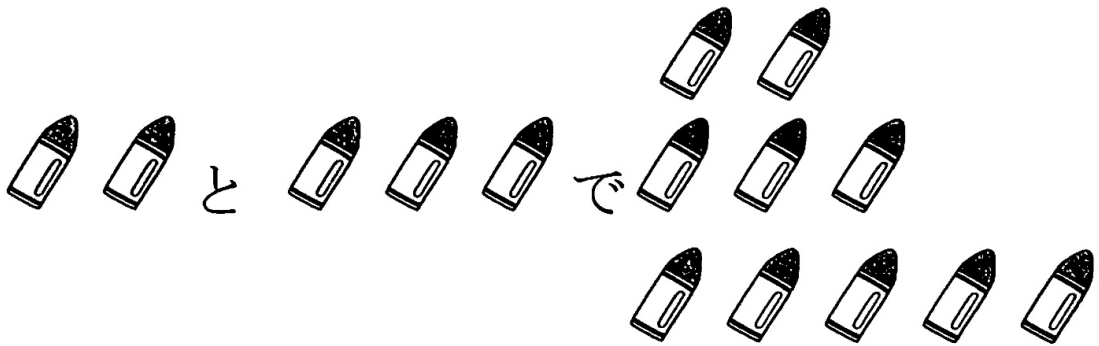


□ と □□□□ で □□

□□□□□

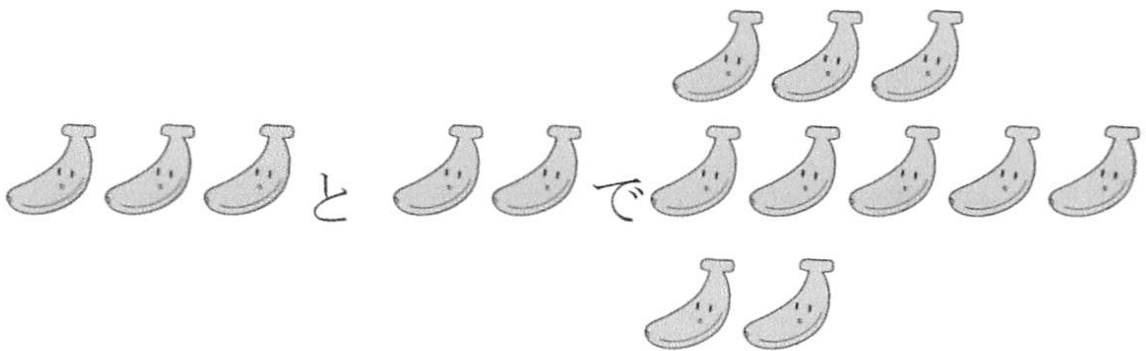
1 + 4 = 3, 4, 5

あわせると いくつに なりますか。



2 + 3 = 4, 5, 6

あわせると いくつに なりますか。




--	--	--	--	--

			と			で			
--	--	--	---	--	--	---	--	--	--

--	--	--	--

$$3 + 2 = 2, 3, 4, 5$$

あわせると いくつに なりますか。



と

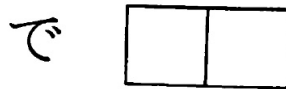




で



$$4 + 1 = 3, 4, 5, 6$$

あわせると いくつに なりますか。



5 + 0 = 4, 5, 6, 7

1 たすと いくつに なりますか。

① **1** + **1** =

+ =

② **1** + **2** =

+ =

③ **1** + **3** =

+ =

2 かいてみましょう。

11	12	13	14	15
----	----	----	----	----

--	--	--	--	--

1 たすと いくつに なりますか。

① **1** + **4** =

+ =

② **1** + **5** =

+ =

③ **1** + **6** =

+ =

2 かいてみましょう。

16	17	18	19	20
----	----	----	----	----

--	--	--	--	--

① たすと いくつに なりますか。

① $1 + 7 =$

+ =

② $1 + 8 =$

+ =

③ $1 + 9 =$

+ =

② かいてみましょう。

21	22	23	24	25
----	----	----	----	----

--	--	--	--	--

① たすと いくつに なりますか。

① **2** + **1** =

+ =

② **2** + **2** =

+ =

③ **2** + **3** =

+ =

② かいてみましょう。

26	27	28	29	30
----	----	----	----	----

--	--	--	--	--

① たすと いくつに なりますか。

① $1 + 1 =$

② $2 + 1 =$

③ $1 + 3 =$

④ $2 + 0 =$

⑤ $3 + 2 =$

② かいてみましょう。

31	32	33	34	35
----	----	----	----	----

--	--	--	--	--

① たすと いくつに なりますか。

① $1 + 4 =$

② $3 + 1 =$

③ $2 + 2 =$

④ $0 + 1 =$

⑤ $1 + 2 =$

② かいてみましょう。

36	37	38	39	40
----	----	----	----	----

--	--	--	--	--

① けいさん しましょう。

① 1 + 4 =

② 2 + 3 =

③ 3 + 2 =

④ 4 + 1 =

⑤ 5 + 0 =

② かいてみましょう。

41	42	43	44	45
----	----	----	----	----

--	--	--	--	--

① けいさん しましょう。

① 4 + 1 =

② 3 + 2 =

③ 2 + 3 =

④ 1 + 4 =

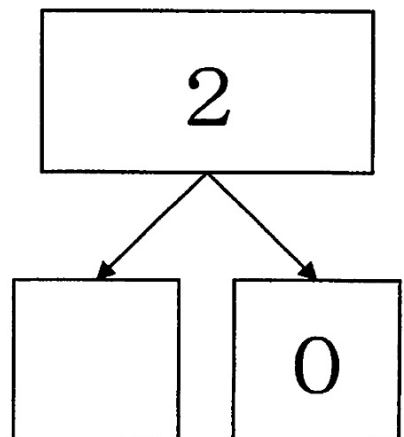
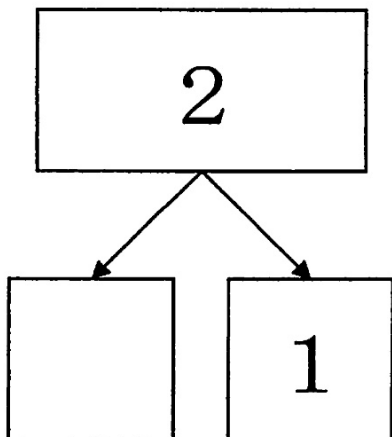
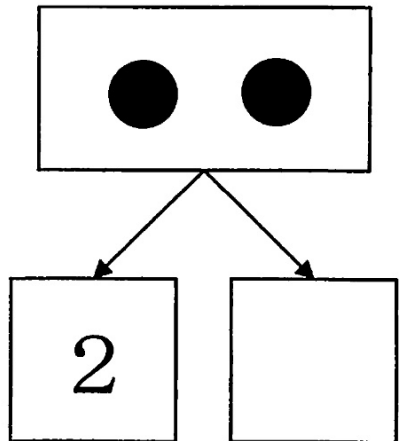
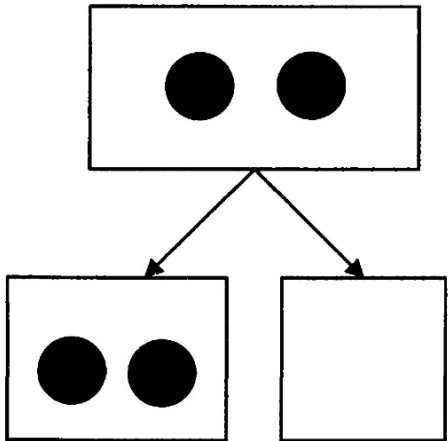
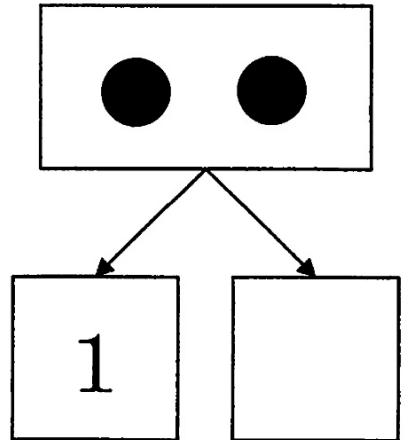
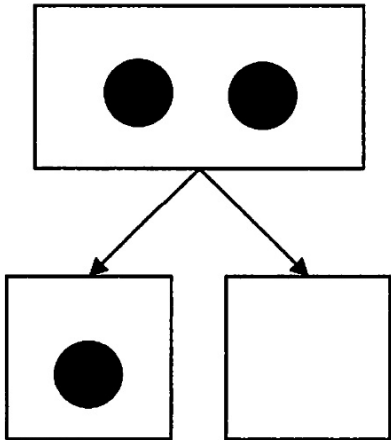
⑤ 0 + 5 =

② かいてみましょう。

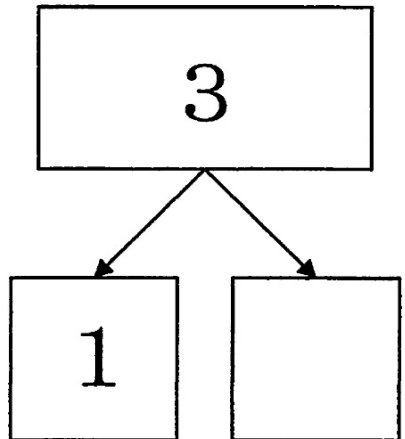
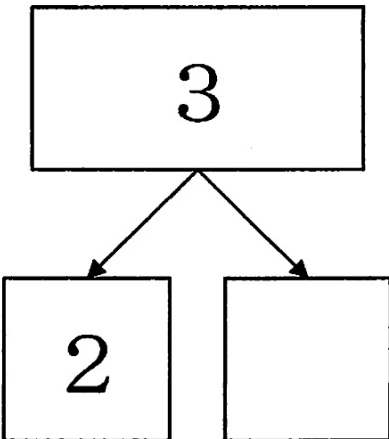
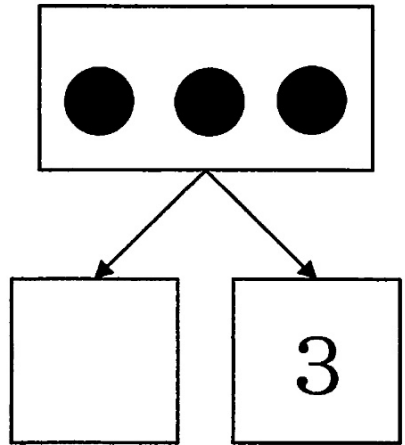
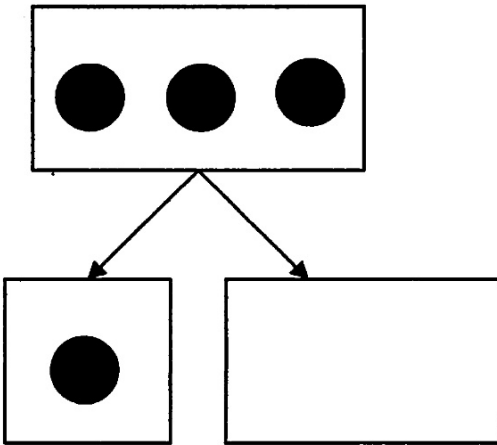
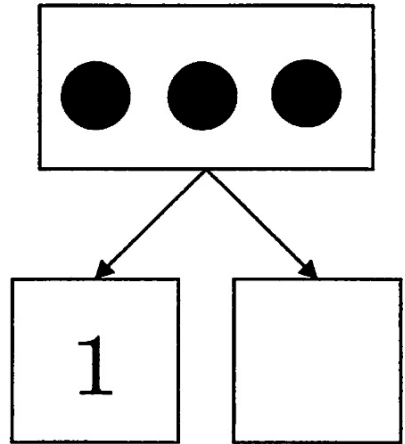
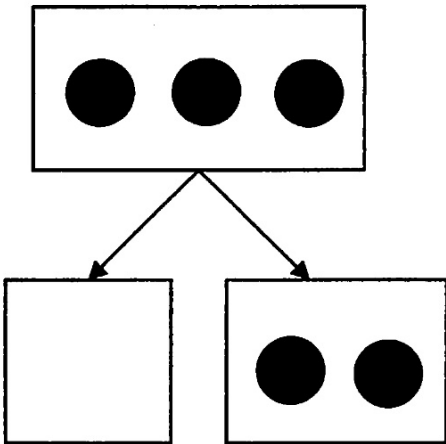
46	47	48	49	50
----	----	----	----	----

--	--	--	--	--

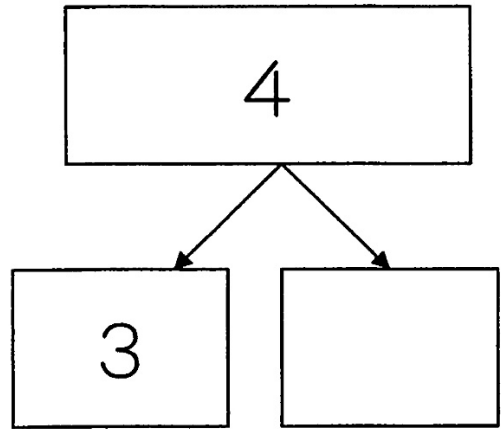
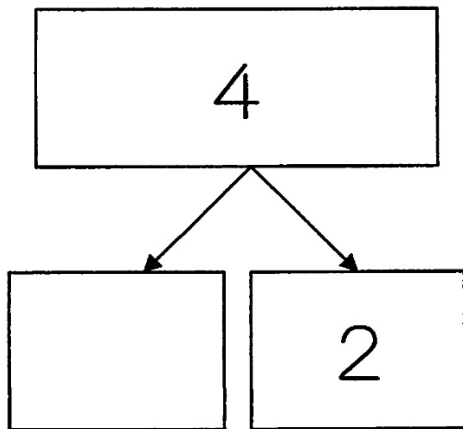
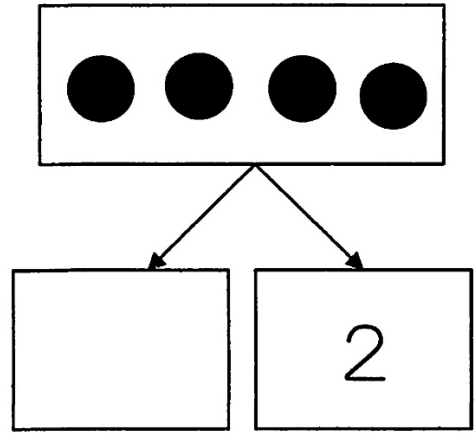
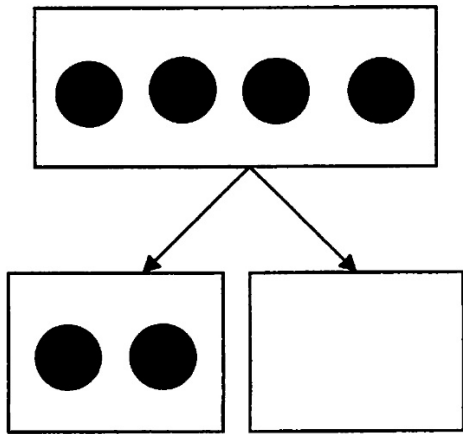
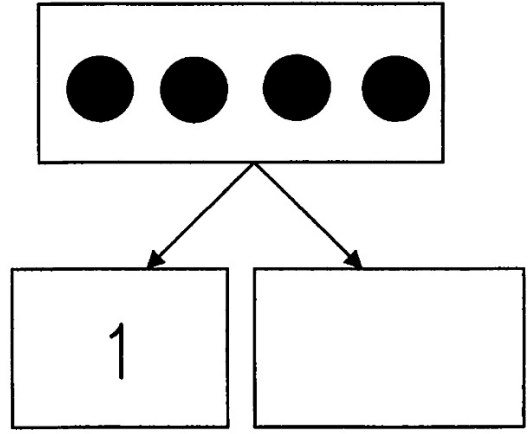
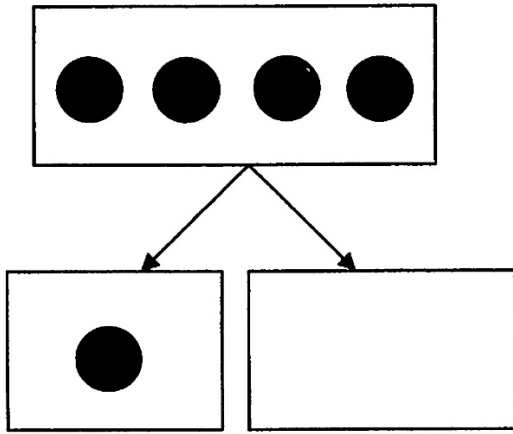
いくつと いくつに わけられる
でしょう。



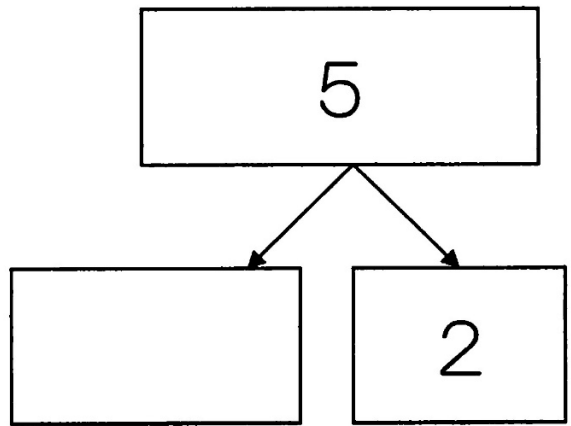
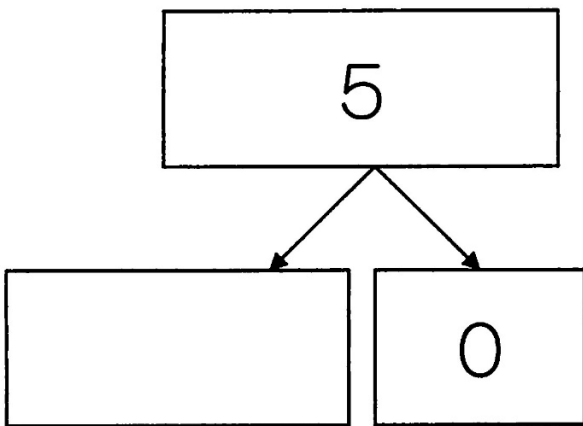
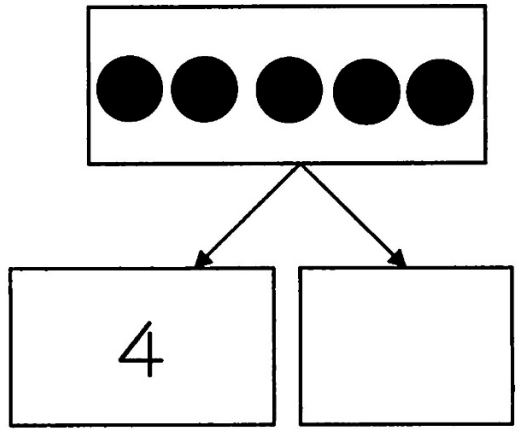
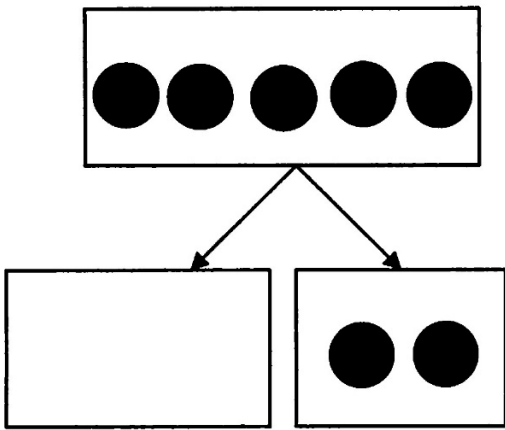
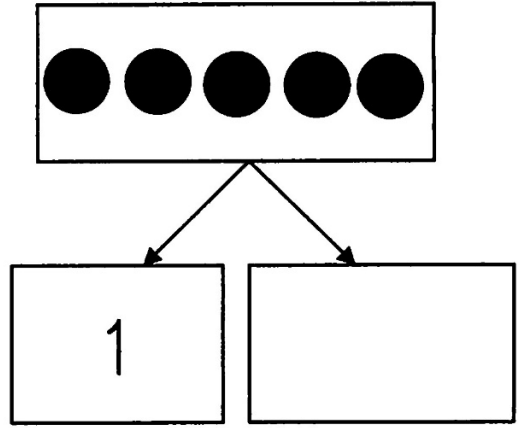
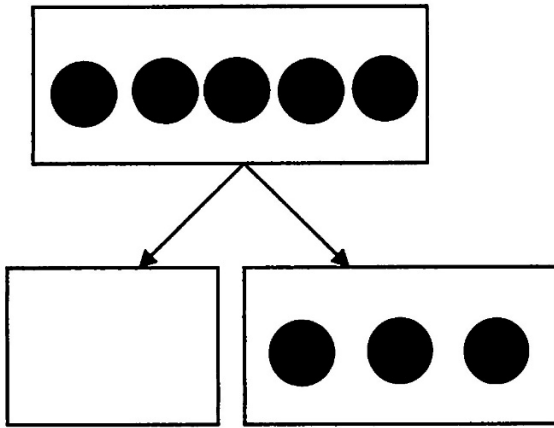
いくつと いくつに わけられる
でしょう。



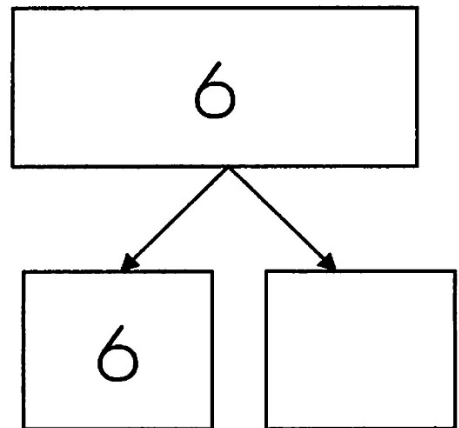
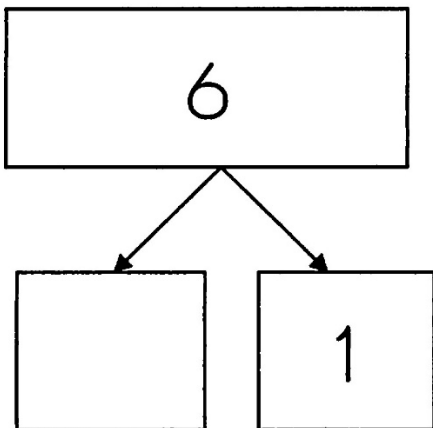
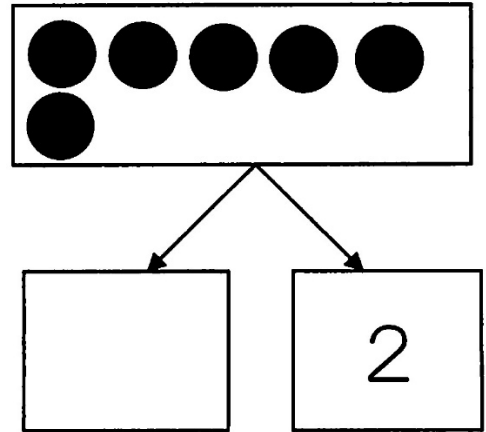
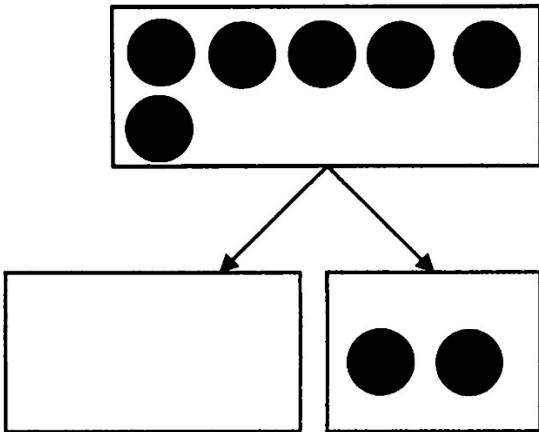
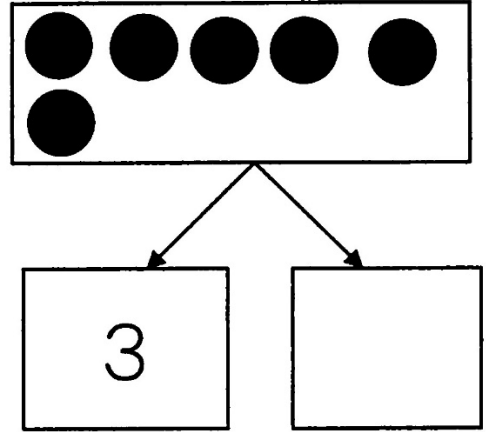
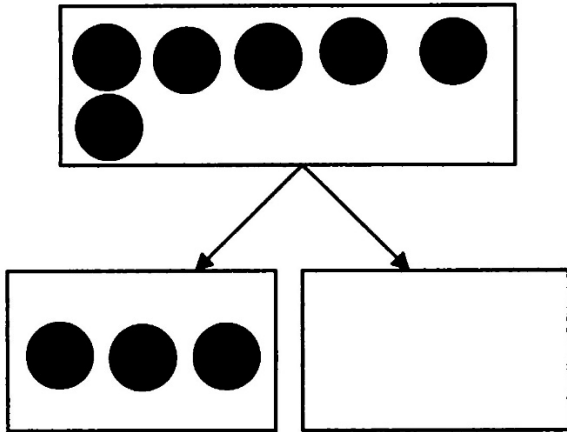
いくつと いくつに わけられる
でしょう。



いくつと いくつに わけられる
でしょう。



いくつと いくつに わけられる
でしょう。



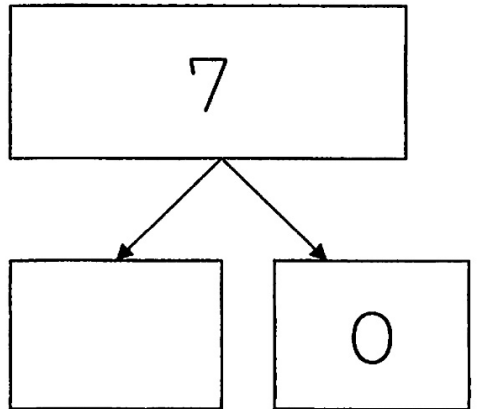
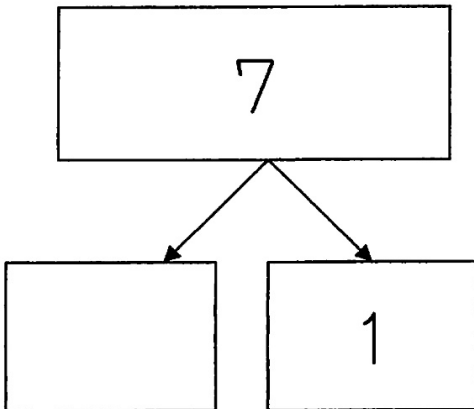
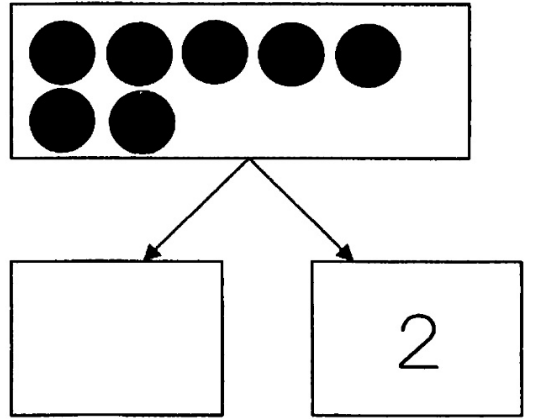
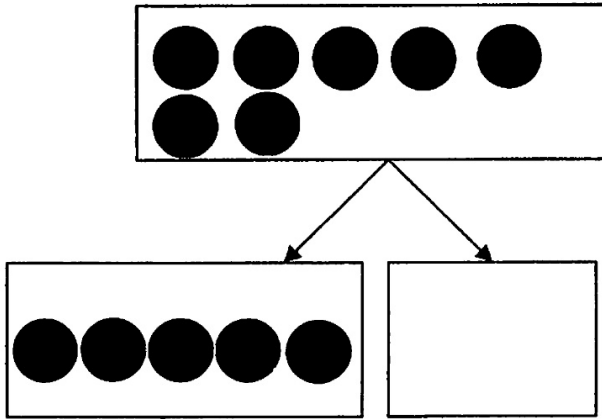
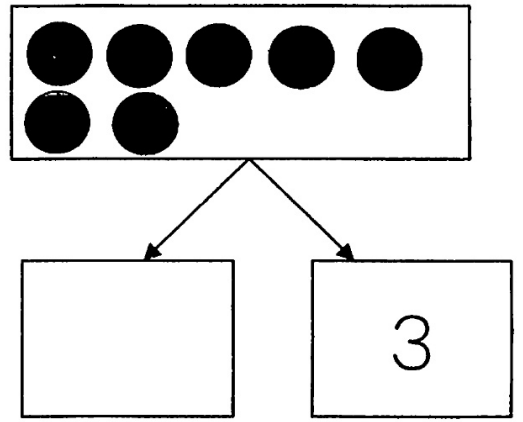
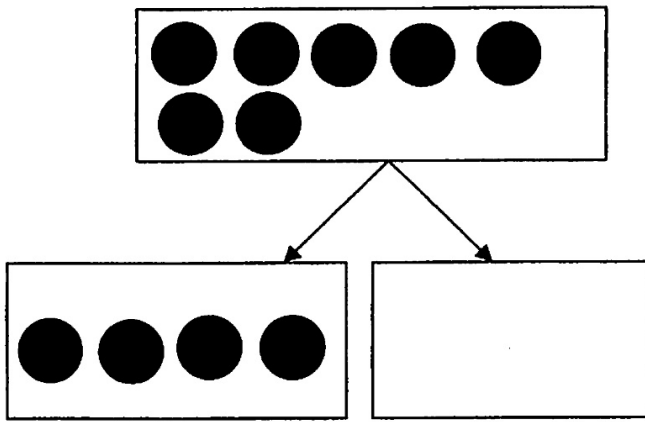
43

わけてみよう
(6)

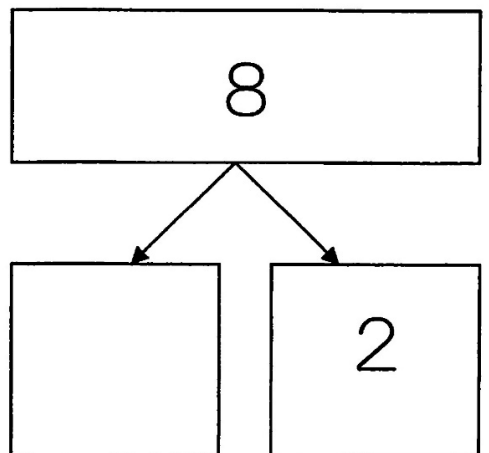
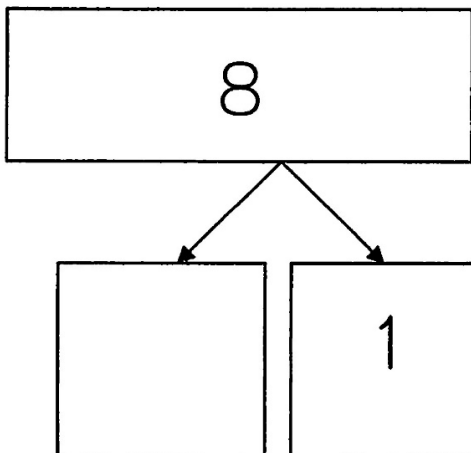
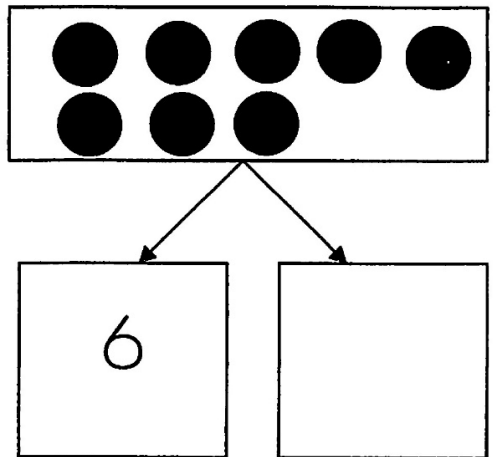
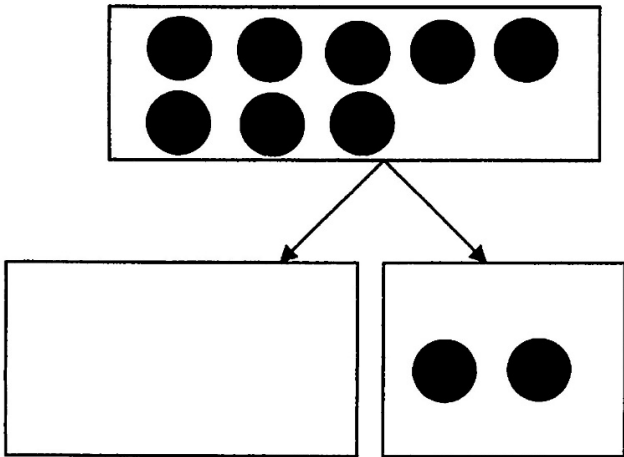
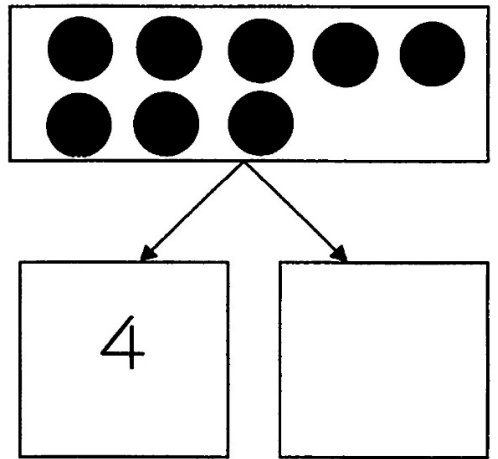
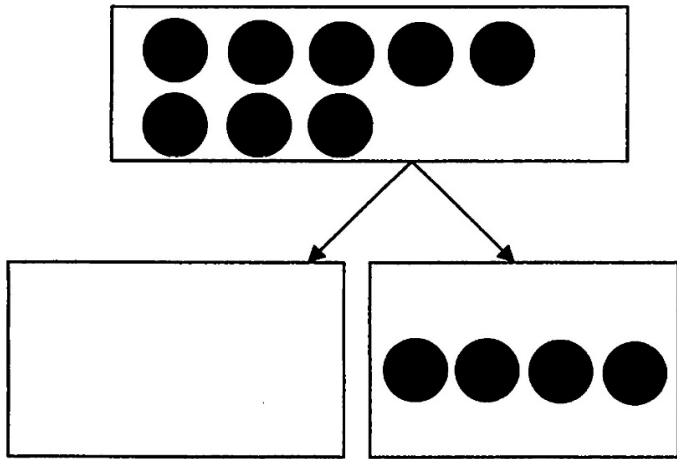
月 日

なまえ

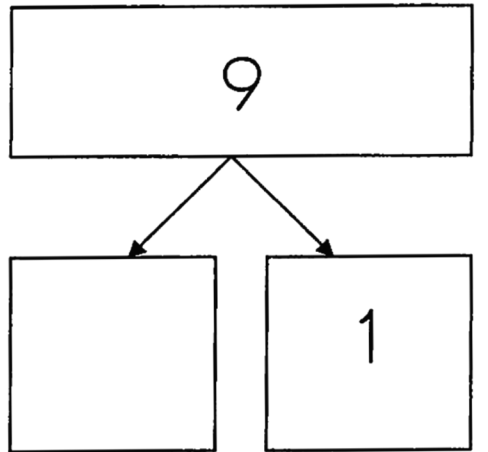
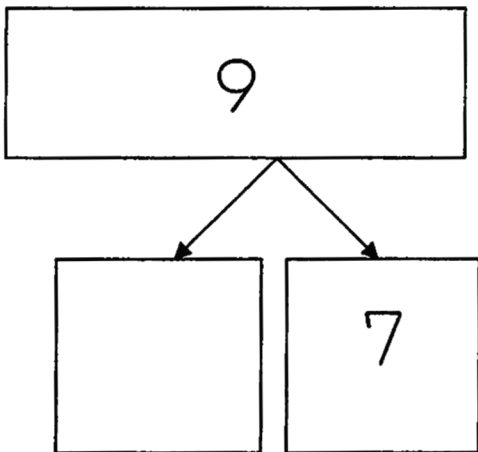
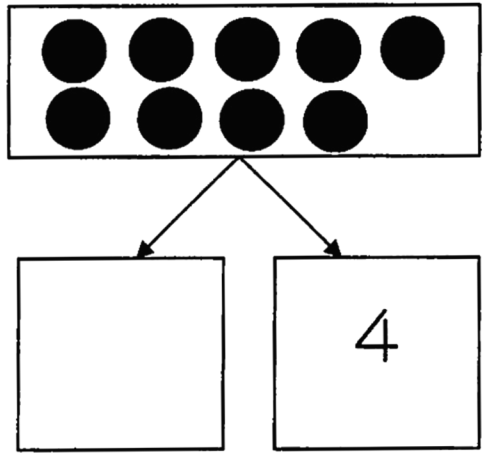
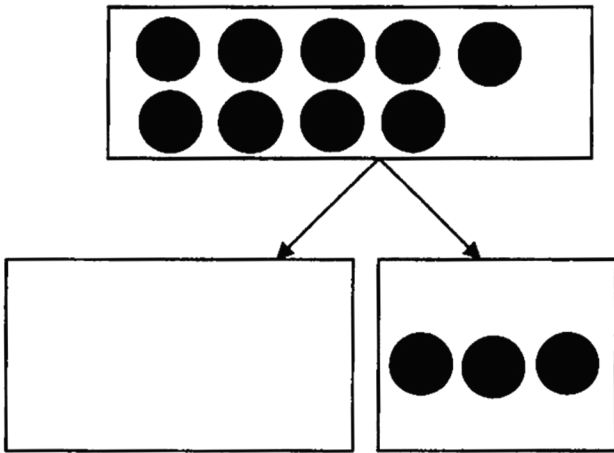
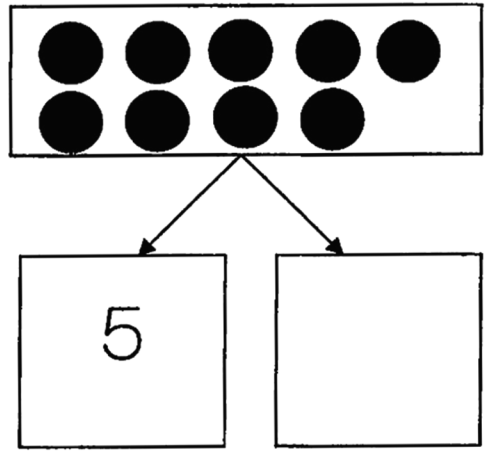
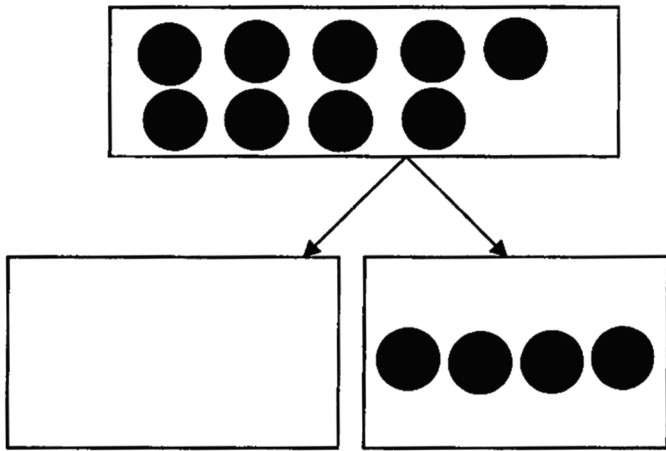
いくつと いくつに わけられる
でしょう。



いくつと いくつに わけられる
でしょう。



いくつと いくつに わけられる
でしょう。



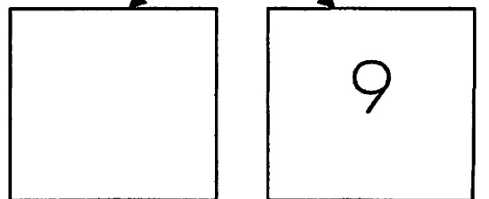

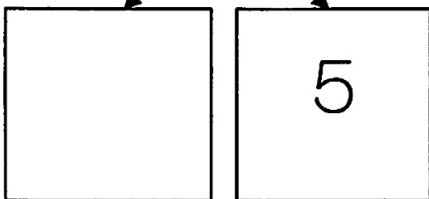

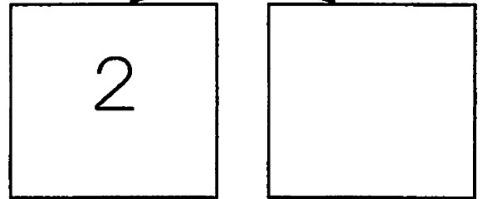

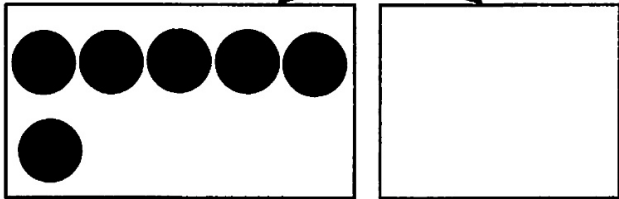

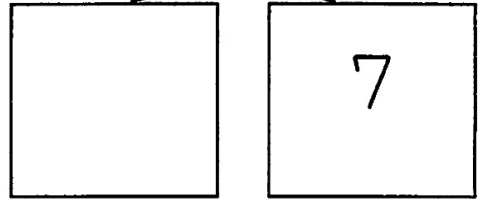
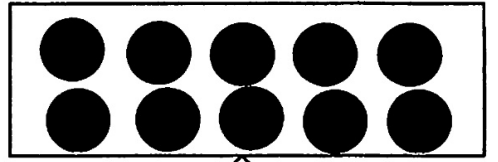
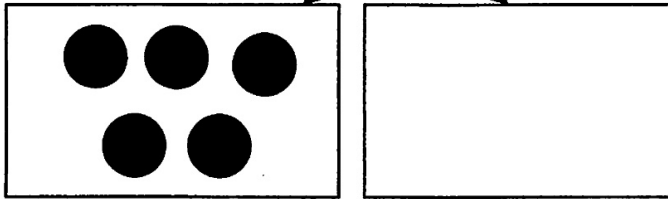

46

わけてみよう
(9)

月 日

なまえ

いくつと いくつに わけられる
でしょう。



ひくと いくつに なりますか。

$$\textcircled{1} \quad \mathbf{1} \quad - \quad \mathbf{1} \quad = \quad \square$$

$$\square \quad - \quad \square \quad =$$

$$\textcircled{2} \quad \mathbf{2} \quad - \quad \mathbf{1} \quad = \quad \square$$

$$\square \square \quad - \quad \square \quad = \quad \square$$

$$\textcircled{3} \quad \mathbf{3} \quad - \quad \mathbf{1} \quad = \quad \square$$

$$\square \square \square \quad - \quad \square \quad = \quad \square \square$$

$$\textcircled{4} \quad \mathbf{4} \quad - \quad \mathbf{1} \quad = \quad \square$$

$$\square \square \square \square \quad - \quad \square \quad = \quad \square \square \square$$

$$\textcircled{5} \quad \mathbf{5} \quad - \quad \mathbf{1} \quad = \quad \square$$

$$\square \square \square \square \square \quad - \quad \square \quad = \quad \square \square \square \square$$

ひくと いくつに なりますか。

① 6 - 1 =

- =

② 7 - 1 =

- =

③ 8 - 1 =

- =

② 9 - 1 =

- =

③ 10 - 1 =

- =

けいさん しましょう。

$$\textcircled{1} \quad 3 - 2 =$$

--	--	--

$$\textcircled{2} \quad 5 - 2 =$$

--	--	--	--	--

$$\textcircled{3} \quad 4 - 2 =$$

--	--	--	--

$$\textcircled{4} \quad 6 - 2 =$$

--	--	--	--	--	--

$$\textcircled{5} \quad 7 - 2 =$$

--	--	--	--	--	--	--

【こたえ】

①おおい(1)

②おおい(2)

3 1 0 1

8 6 5 7

2 4 9 0

③おおい(3)

④おおきいすうじ

3 8 0

7 2 5

6 1 9

⑤すくない(1)

⑥すくない(2)

3 1 0 1

6 5 9 4

2 8 6 7

⑦すくない(3)

⑧ちいさいすうじ

5 7 8

3 0 5

6 8 10

⑨「5」ご

1 5に○をつけましょう。

⑩「6」ろく

1 6に○をつけましょう。

⑪「7」なな・しち

1 7に○をつけましょう。

⑫「8」はち

1 8に○をつけましょう。

⑬「9」きゅう

1 9に○をつけましょう。

⑭「10」じゅう

1 10に○をつけましょう。

⑮すうじをかこう(1)

1	2	3	4	5
6	7	8	9	10

⑯すうじをかこう(2)

1	2	3	4	5
6	7	8	9	10

⑰おなじかず(1)

⑰おなじかず(2)

⑲あわせてみよう(1)

1 と 1 で

□ と □ で

1 + 1 = 1, 2, 3

⑲あわせてみよう(2)

2 と 1 で

□ と □ で

2 + 1 = 2, 3, 4, 5

⑳あわせてみよう(3)

3 と 3 で

□ と □ で

3 + 3 = 2, 3, 4, 5

㉒あわせてみよう(4)

2 と 1 で

□ と □ で

2 + 1 = 2, 3, 4, 5

㉓あわせてみよう(5)

3 と 1 で

□ と □ で

3 + 1 = 2, 3, 4, 5

㉔あわせてみよう(6)

2 と 2 で

□ と □ で

2 + 2 = 3, 4, 5

【こたえ】

㉕あわせてみよう(7)

1 + 4 = 3, 4, 5

㉖あわせてみよう(8)

2 + 3 = 4, 5, 6

㉗あわせてみよう(9)

3 + 2 = 2, 3, 4, 5

㉘あわせてみよう(10)

4 + 1 = 3, 4, 5, 6

㉙あわせてみよう(11)

5 + 0 = 4, 5, 6, 7

㉚たしてみよう(1)

- 1 ① 2 ② 3 ③ 4

㉛たしてみよう(2)

- 1 ① 5 ② 6 ③ 7

㉜たしてみよう(3)

- 1 ① 8 ② 9 ③ 10

㉝たしてみよう(4)

- 1 ① 3 ② 4 ③ 5

㉞たしてみよう(5)

- 1 ① 2 ② 3 ③ 4
④ 2 ⑤ 5

㉟たしてみよう(6)

- 1 ① 5 ② 4 ③ 4
④ 1 ⑤ 3

㊱けいさん(1)

- 1 ① 5 ② 5 ③ 5
④ 5 ⑤ 5

㊲けいさん(2)

- 1 ① 5 ② 5 ③ 5
④ 5 ⑤ 5

㊳わけてみよう(1)

2 2
1 1 2 0

㊴わけてみよう(2)

3 3
2 1 0 3

㊵わけてみよう(3)

4 4
2 2 2 2

㊶わけてみよう(4)

5 5
1 4 4 1
5 0 3 2

㊷わけてみよう(5)

6 6
3 3 4 2
5 1 6 0

㊸わけてみよう(6)

いくつといくつに分けられるでしょう。

7 7
4 3 5 2
6 1 7 0

㊹わけてみよう(7)

8 8
4 4 6 2
7 1 6 2

㊺わけてみよう(8)

9 9
5 4 5 4
2 7 8 1

㊻わけてみよう(9)

10 10
3 7 2 8
5 5 1 9

㊼ひいてみよう(1)

- 1 ① 0 ② 1 ③ 2
④ 3 ⑤ 4

㊽ひいてみよう(2)

- 1 ① 5 ② 6 ③ 7
④ 8 ⑤ 9

㊾けいさん(3)

- 1 ① 1 ② 4 ③ 2
④ 4 ⑤ 5

㊿けいさん(4)

- 1 ① 1 ② 3 ③ 2
④ 4 ⑤ 5

発行所 株式会社B E プラウド
発行者 志道不二子

〒239-0831
神奈川県横須賀市久里浜4-13-6 志道ビル3F
電話 046-835-0068

E-MAIL beproud@major.ocn.ne.jp
著者 志道不二子
監修 志道不二子

本書の著作権は株式会社B E プラウドが所持しています。
本書の全部または一部の、無断複写、複製、転載を禁じます。



まなびあとリエ